

**Задания школьного этапа Всероссийской олимпиады по географии
2023–2024 учебный год.**

4 класс

Итого: 418

Время выполнения заданий – 45 минут

Максимальный балл за все задания – 50 баллов

Уважаемые участники олимпиады, теоретический тур олимпиады включает 4 задания. Внимательно познакомьтесь с характером каждого из них и определите для себя последовательность выполнения работы. Ответы каждого из них запишите в листе ответов.

Начинать работу можно с любого задания, однако, рекомендуется выполнять задания в том порядке, в котором они даны. Если какое-то задание вызывает у вас затруднение, пропустите его и постарайтесь выполнить те, в ответах которых вы уверены. К пропущенным заданиям можно будет вернуться, если у вас останется время

Часть I. – 20 баллов (по 1 баллу за каждый правильный ответ).

Вопросы с выбором одного правильного ответа из четырёх предложенных.

фия» означает

) жизнь на Земле г) изменение Земли

в) модель шара

- 3. Какой признак отличает нашу планету от других «планет земной группы»?
- а) имеет твёрдую поверхность
б) имеет атмосферу
в) имеет естественный спутник
 присутствует вода в жидком, твёрдом и газообразном состоянии
- + 4. К объектам живой природы относится
- а) кристалл б) сосулька г) луна
- 5. Кто из древних ученых первым п жил, что Земля имеет форму шара?
- а) Пифагор б) Птолемей в) Копер Аристотель
- 6. Отметьте ряд, в котором указаны планеты, входящие в группу планет-гигантов.
- а) Сатурн, Земля, Марс Марс, Венера, Юпитер
в) Земля, Плутон, Уран, Нептун г) Юпитер, Сатурн, Уран, Нептун
7. Дополните утверждение: «На сегодняшний день существует ... материков».
- а) Африка б) Америка Антарктида г) Австралия.
- + 9. Как называется прибор для ориентирования на местности?
- компас б) флюгер в) азимут г) барометр
- 10. Если встать лицом на север, то с правой стороны будет:
- а) юг б) восток запад г) северо – восток
- + 11. Как появилась почва?
- а) она всегда была на планете
б) в результате извержения вулкана
 из рыхлого слоя горных пород, измененного растениями и животными
г) в результате распашки полей человеком
- 12. Какие горы принято считать границей между
- Алтайские горы б) Уральские горы
в) Кавказские горы г) Воробьевы горы

источник В.П.

источник М.А.

13. Какая из перечисленных гор находится в России и является высочайшей вершиной Европы?

- + а) Эльбрус б) Эверест
в) Мак-Кинли г) Килиманджаро

+ 14. Моря какого океана не омывают берега России?

- а) Индийского б) Тихого
в) Северного Ледовитого г) Атлантического

+ 15. Какая из перечисленных рек находится в России и является самой длинной в Европе?

- а) Енисей б) Лена в) Нева г) Волга

+ 16. В России находится самое глубокое озеро мира. Как оно называется?

- а) озеро Ильмень б) Ладожское озеро
в) озеро Байкал г) Онежское озеро

+ 17. Полезные ископаемые – это...

- а) все минералы и горные породы, из которых состоит Земля.
б) минералы и горные породы, которые используют люди
в) полезные вещества, которые получают из горных пород и минералов.

- 18. Наиболее обширная природная зона России — это ...

- а) степь б) тундра в) пустыня г) тайга

+ 19. Этот самый большой остров планеты, целиком покрыт льдами. Его коренные жители, эскимосы, занимаются охотой и рыболовством.

- а) Сахалин б) Гренландия в) Гавайи

+ 20. Что такое карта полушарий?

- а) карта, на которой дано изображение какой-то территории.
б) карта, на которой изображены две половинки земного шара.
в) карта, на которой изображена Земля.

Часть II. 168

Разделите приведённые ниже слова на две группы: объекты природы и явления природы.

За каждый правильный ответ начисляется 1 балл.

бактерии	гроза	ледоход	озеро
ветер	землетрясение	листопад	половодье
воздух	камнепад	минералы	дерево
вулкан	родник	облако	спячка

Объекты природы	Явления природы
бактерии +	ветер +
вулкан +	гроза +
родник +	землетрясение +
минералы +	камнепад +
облако +	ледоход +
озеро +	листопад +
дерево +	половодье +
воздух +	спячка +

88

88

98

Часть III.

За каждый правильный ответ начисляется 1 балл.

1. Подбери общий материк для следующих организмов:

утконос, ехидна, кенгуру, дикая собака Динго, райские птицы.

Ответ: Австралия

2. Во всех этих словах течёт древнерусская река, впадающая в Азовское море. Отыщи её название. В ответе напиши получившееся слово.

ЛАДОНЬ, ДОНОС, БИДОН

Ответ: Дон

3. Горилла – самая крупная из всех обезьян, живущих на Земле. Иногда ее вес не выдерживают даже большие деревья! Горилла очень сильная: мускулам на ее лапах может позавидовать любой спортсмен. Вспоминай, на каком континенте мы можем увидеть это удивительное животное в естественной среде обитания?

В ответе запиши название континента.

Ответ: Африка

4. Выберите ВСЕ правильные ответы.

Медуза – это живое существо, потому что она:

- а) плавает в морях
- б) размножается
- в) питается
- г) может находиться только в воде
- д) дышит

5. Выберите ВСЕ правильные ответы. Выберите из списка животных, занесённых в Красную книгу России.

- а) белый медведь
- б) русская выхухоль
- в) амурский тигр
- г) бурый медведь
- д) лось
- е) дальневосточный леопард

48

Часть IV. При выполнении заданий на соответствие к каждой позиции, данной в первом столбце, подберите соответствующую позицию из второго столбца.

Установите соответствие между исследователями (а-г) космоса и их достижениями (1-3).

<input checked="" type="checkbox"/> а) Ю. Гагарин	<input checked="" type="checkbox"/> 1) Первый учёный, который доказал, что реальным средством освоения космоса станет ракета
<input checked="" type="checkbox"/> б) С. Королёв	<input checked="" type="checkbox"/> 2) Первый полёт человека в космос
<input checked="" type="checkbox"/> в) К. Циолковский	<input checked="" type="checkbox"/> 3) Организатор производства ракетно-космической техники
<input checked="" type="checkbox"/> г) Н. Пилюгин	<input checked="" type="checkbox"/> 4) Создатель системы управления ракетами-носителями.

**Задания школьного этапа Всероссийской олимпиады по географии
2023–2024 учебный год.**

4 класс

Время выполнения заданий – 45 минут

Максимальный балл за все задания – 50 баллов

Итого: 39б.

Уважаемые участники олимпиады, теоретический тур олимпиады включает 4 задания. Внимательно познакомьтесь с характером каждого из них и определите для себя последовательность выполнения работы. Ответы каждого из них запишите в листе ответов.

Начинать работу можно с любого задания, однако, рекомендуется выполнять задания в том порядке, в котором они даны. Если какое-то задание вызывает у вас затруднение, пропустите его и постарайтесь выполнить те, в ответах которых вы уверены. К пропущенным заданиям можно будет вернуться, если у вас останется время

Часть I. – 20 баллов (по 1 баллу за каждый правильный ответ).

Вопросы с выбором одного правильного ответа из четырёх предложенных.

145

- 1. В переводе с греческого языка «география» означает
 - а) описание Земли б) изучение Земли в) жизнь на Земле г) изменение Земли
- + 2. Что такое глобус?
 - а) модель Солнца б) модель Земли в) модель шара
- 3. Какой признак отличает нашу планету от других «планет земной группы»?
 - а) имеет твёрдую поверхность
 - б) имеет атмосферу
 - в) имеет естественный спутник
 - г) присутствует вода в жидком, твёрдом и газообразном состоянии
- + 4. К объектам живой природы относится
 - а) кристалл б) сосулька в) гриб г) луна
- + 5. Кто из древних ученых первым предположил, что Земля имеет форму шара?
 - а) Пифагор б) Птолемей в) Коперник г) Аристотель
- + 6. Отметьте ряд, в котором указаны планеты, входящие в группу планет-гигантов.
 - а) Сатурн, Земля, Марс б) Марс, Венера, Юпитер
 - в) Земля, Плутон, Уран, Нептун г) Юпитер, Сатурн, Уран, Нептун
- + 7. Дополните утверждение: «На сегодняшний день существует ... материков».
 - а) 8 б) 4 в) 5 г) 6
- 8. Какой материк называют Новым светом?
 - а) Африка б) Америка в) Антарктида г) Австралия.
- + 9. Как называется прибор для ориентирования на местности?
 - а) компас б) флюгер в) азимут г) барометр
- 10. Если встать лицом на север, то с правой стороны будет:
 - а) юг б) восток в) запад г) северо – восток
- + 11. Как появилась почва?
 - а) она всегда была на планете
 - б) в результате извержения вулкана
 - в) из рыхлого слоя горных пород, измененного растениями и животными
 - г) в результате распашки полей человеком
- + 12. Какие горы принято считать границей между Европой и Азией?
 - а) Алтайские горы б) Уральские горы
 - в) Кавказские горы г) Воробьевы горы

Итого: 39б. / Ласточкина В.А. / Машутина М.А.

— 13. Какая из перечисленных гор находится в России и является высочайшей вершиной Европы?

- а) Эльбрус б) Эверест
в) Мак-Кинли г) Килиманджаро

— 14. Моря какого океана не омывают берега России?

- а) Индийского б) Тихого
в) Северного Ледовитого г) Атлантического

+ 15. Какая из перечисленных рек находится в России и является самой длинной в Европе?

- а) Енисей б) Лена в) Нева г) Волга

+ 16. В России находится самое глубокое озеро мира. Как оно называется?

- а) озеро Ильмень б) Ладожское озеро
в) озеро Байкал г) Онежское озеро

+ 17. Полезные ископаемые – это...

- а) все минералы и горные породы, из которых состоит Земля.
б) минералы и горные породы, которые используют люди
в) полезные вещества, которые получают из горных пород и минералов.

+ 18. Наиболее обширная природная зона России — это ...

- а) степь б) тундра в) пустыня г) тайга

+ 19. Этот самый большой остров планеты, целиком покрыт льдами. Его коренные жители, эскимосы, занимаются охотой и рыболовством.

- а) Сахалин б) Гренландия в) Гавайи

+ 20. Что такое карта полушарий?

- а) карта, на которой дано изображение какой-то территории.
б) карта, на которой изображены две половинки земного шара.
в) карта, на которой изображена Земля.

Часть II. 125

Разделите приведённые ниже слова на две группы: объекты природы и явления природы.

За каждый правильный ответ начисляется 1 балл.

бактерии	гроза	ледоход	озеро
ветер	землетрясение	листопад	половодье
воздух	камнепад	минералы	дерево
вулкан	родник	облако	спячка

Объекты природы	Явления природы
бактерии +	ветер +
вулкан +	воздух -
родник +	гроза +
минералы +	камнепад +
озеро +	листопад +
дерево +	половодье +
	спячка +
65	68

95

Часть III.

За каждый правильный ответ начисляется 1 балл.

+ 1. Подбери общий материк для следующих организмов: утконос, ехидна, кенгуру, дикая собака Динго, райские птицы.

Ответ: Австралия

2. Во всех этих словах течёт древнерусская река, впадающая в Азовское море. Отыщи её название. В ответе напиши получившееся слово.

ЛАДОНЬ, ДОНОС, БИДОН

+ Ответ: Дон

- 3. Горилла – самая крупная из всех обезьян, живущих на Земле. Иногда ее вес не выдерживают даже большие деревья! Горилла очень сильная: мускулам на ее лапах может позавидовать любой спортсмен. Вспоминай, на каком континенте мы можем увидеть это удивительное животное в естественной среде обитания?

В ответе запиши название континента.

Ответ: Африка

4. Выберите ВСЕ правильные ответы.

Медуза – это живое существо, потому что она:

- 38 - а) плавает в морях
- + б) размножается
- + в) питается
- г) может находиться только в воде
- + д) дышит

5. Выберите ВСЕ правильные ответы. Выберите из списка животных, занесённых в Красную книгу России.

- 45 + а) белый медведь
- + б) русская выхухоль
- + в) амурский тигр
- г) бурый медведь
- + д) дальневосточный леопард

25

Часть IV. При выполнении заданий на соответствие к каждой позиции, данной в первом столбце, подберите соответствующую позицию из второго столбца.

Установите соответствие между исследователями (а-г) космоса и их достижениями (1-3).

+ а) Ю. Гагарин	1) Первый учёный, который доказал, что реальным средством освоения космоса станет ракета
+ б) С. Королёв	2) Первый полёт человека в космос
- в) К. Циолковский	3) Организатор производства ракетно-космической техники
- г) Н. Пилюгин	4) Создатель системы управления ракетами-носителями.

Т-4-12

Задания школьного этапа Всероссийской олимпиады по географии
2023–2024 учебный год.

4 класс

Учото: 348

Время выполнения заданий – 45 минут

Максимальный балл за все задания – 50 баллов

Уважаемые участники олимпиады, теоретический тур олимпиады включает 4 задания. Внимательно познакомьтесь с характером каждого из них и определите для себя последовательность выполнения работы. Ответы каждого из них запишите в листе ответов.

Начинать работу можно с любого задания, однако, рекомендуется выполнять задания в том порядке, в котором они даны. Если какое-то задание вызывает у вас затруднение, пропустите его и постарайтесь выполнить те, в ответах которых вы уверены. К пропущенным заданиям можно будет вернуться, если у вас останется время

Часть I. – 20 баллов (по 1 баллу за каждый правильный ответ).

Вопросы с выбором одного правильного ответа из четырёх предложенных.

- 130
- 1. В переводе с греческого языка «география» означает
а) описание Земли б) изучение Земли в) жизнь на Земле г) изменение Земли
 2. Что такое глобус?
+ а) модель Солнца б) модель Земли в) модель шара
 3. Какой признак отличает нашу планету от других «планет земной группы»?
– а) имеет твёрдую поверхность
б) имеет атмосферу
в) имеет естественный спутник
 г) присутствует вода в жидком, твёрдом и газообразном состоянии
 - + 4. К объектам живой природы относится
а) кристалл б) сосулька в) гриб г) луна
 - + 5. Кто из древних ученых первым предположил, что Земля имеет форму шара?
 а) Пифагор б) Птолемей в) Коперник г) Аристотель
 - 6. Отметьте ряд, в котором указаны планеты, входящие в группу планет-гигантов.
а) Сатурн, Земля, Марс б) Марс, Венера, Юпитер
в) Земля, Плутон, Уран, Нептун г) Юпитер, Сатурн, Уран, Нептун
 - + 7. Дополните утверждение: «На сегодняшний день существует ... материков».
а) 8 б) 4 в) 5 г) 6
 - + 8. Какой материк называют Новым светом?
а) Африка б) Америка в) Антарктида г) Австралия.
 - + 9. Как называется прибор для ориентирования на местности?
 а) компас б) флюгер в) азимут г) барометр
 - + 10. Если встать лицом на север, то с правой стороны будет:
а) юг б) восток в) запад г) северо – восток
 - + 11. Как появилась почва?
а) она всегда была на планете
б) в результате извержения вулкана
 в) из рыхлого слоя горных пород, измененного растениями и животными
г) в результате распашки полей человеком
 - 12. Какие горы принято считать границей между Европой и Азией?
 а) Алтайские горы б) Уральские горы
в) Кавказские горы г) Воробьевы горы

Миря. В. А. / Машоткина М. А.

13. Какая из перечисленных гор находится в России и является высочайшей вершиной Европы?
- а) Эльбрус б) Эверест
в) Мак-Кинли г) Килиманджаро
- + 14. Моря какого океана не омывают берега России?
- а) Индийского б) Тихого
в) Северного Ледовитого г) Атлантического
- + 15. Какая из перечисленных рек находится в России и является самой длинной в Европе?
- а) Енисей б) Лена в) Нева г) Волга
- + 16. В России находится самое глубокое озеро мира. Как оно называется?
- а) озеро Ильмень б) Ладожское озеро
в) озеро Байкал г) Онежское озеро
- 17. Полезные ископаемые – это...
- а) все минералы и горные породы, из которых состоит Земля.
б) минералы и горные породы, которые используют люди
в) полезные вещества, которые получают из горных пород и минералов.
- 18. Наиболее обширная природная зона России — это ...
- а) степь б) тундра в) пустыня г) тайга
- + 19. Этот самый большой остров планеты, целиком покрыт льдами. Его коренные жители, эскимосы, занимаются охотой и рыболовством.
- а) Сахалин б) Гренландия в) Гавайи
- + 20. Что такое карта полушарий?
- а) карта, на которой дано изображение какой-то территории.
б) карта, на которой изображены две половинки земного шара.
в) карта, на которой изображена Земля.

Часть II.

148

Разделите приведённые ниже слова на две группы: объекты природы и явления природы.

За каждый правильный ответ начисляется 1 балл.

бактерии	гроза	ледоход	озеро
ветер	землетрясение	листопад	половодье
воздух	камнепад	минералы	дерево
вулкан	родник	облако	спячка

Объекты природы	Явления природы
Бактерии +	Ветер +
Вулкан +	Воздух -
Родник +	Гроза +
Ледоход -	Землетрясение +
Минералы +	Камнепад +
Облако +	Листопад +
Озеро +	Половодье +
Дерево +	Спячка +

48

48

Часть III.

За каждый правильный ответ начисляется 1 балл.

1. Подбери общий материк для следующих организмов:

утконос, ехидна, кенгуру, дикая собака Динго, райские птицы.

Ответ: Африка

2. Во всех этих словах течёт древнерусская река, впадающая в Азовское море. Отыщи её название. В ответе напиши получившееся слово.

ЛАДОНЬ, ДОНОС, БИДОН

Ответ: Ладога

3. Горилла – самая крупная из всех обезьян, живущих на Земле. Иногда ее вес не выдерживают даже большие деревья! Горилла очень сильная: мускулам на ее лапах может позавидовать любой спортсмен. Вспоминай, на каком континенте мы можем увидеть это удивительное животное в естественной среде обитания?

В ответе запиши название континента.

Ответ: Африка

4. Выберите ВСЕ правильные ответы.

Медуза – это живое существо, потому что она:

- а) плавает в морях
- б) размножается
- в) питается
- г) может находиться только в воде
- д) дышит

5. Выберите ВСЕ правильные ответы. Выберите из списка животных, занесённых в Красную книгу России.

- а) белый медведь
- б) русская выхухоль
- в) амурский тигр
- г) бурый медведь
- д) лось
- е) дальневосточный леопард

Часть IV. При выполнении заданий на соответствие к каждой позиции, данной в первом столбце, подберите соответствующую позицию из второго столбца. Установите соответствие между исследователями (а-г) космоса и их достижениями (1-3).

а) Ю. Гагарин	4	1) Первый учёный, который доказал, что реальным средством освоения космоса станет ракета
б) С. Королёв	3	2) Первый полёт человека в космос
в) К. Циолковский	1	3) Организатор производства ракетно-космической техники
г) Н. Пилюгин	2	4) Создатель системы управления ракетами-носителями.

Задания школьного этапа Всероссийской олимпиады по географии
2023–2024 учебный год.

Г-У-15

Е

4 класс

Итого: 338

Время выполнения заданий – 45 минут

Максимальный балл за все задания – 50 баллов

Уважаемые участники олимпиады, теоретический тур олимпиады включает 4 задания. Внимательно познакомьтесь с характером каждого из них и определите для себя последовательность выполнения работы. Ответы каждого из них запишите в листе ответов.

Начинать работу можно с любого задания, однако, рекомендуется выполнять задания в том порядке, в котором они даны. Если какое-то задание вызывает у вас затруднение, пропустите его и постарайтесь выполнить те, в ответах которых вы уверены. К пропущенным заданиям можно будет вернуться, если у вас останется время

138

Часть I. – 20 баллов (по 1 баллу за каждый правильный ответ).

Вопросы с выбором одного правильного ответа из четырёх предложенных.

- 1. В переводе с греческого языка «география» означает
а) описание Земли б) изучение Земли в) жизнь на Земле г) изменение Земли
- + 2. Что такое глобус?
а) модель Солнца б) модель Земли в) модель шара
- 3. Какой признак отличает нашу планету от других «планет земной группы»?
а) имеет твёрдую поверхность
б) имеет атмосферу
в) имеет естественный спутник
г) присутствует вода в жидком, твёрдом и газообразном состоянии
- + 4. К объектам живой природы относится
а) кристалл б) сосулька в) гриб г) луна
- + 5. Кто из древних ученых первым предположил, что Земля имеет форму шара?
а) Пифагор б) Птолемей в) Коперник г) Аристотель
- + 6. Отметьте ряд, в котором указаны планеты, входящие в группу планет-гигантов.
а) Сатурн, Земля, Марс б) Марс, Венера, Юпитер
в) Земля, Плутон, Уран, Нептун г) Юпитер, Сатурн, Уран, Нептун
- + 7. Дополните утверждение: «На сегодняшний день существует ... материков».
а) 8 б) 4 в) 5 г) 6
- + 8. Какой материк называют Новым светом?
а) Африка б) Америка в) Антарктида г) Австралия.
- + 9. Как называется прибор для ориентирования на местности?
а) компас б) флюгер в) азимут г) барометр
- 10. Если встать лицом на север, то с правой стороны будет:
а) юг б) восток в) запад г) северо – восток
- + 11. Как появилась почва?
а) она всегда была на планете
б) в результате извержения вулкана
в) из рыхлого слоя горных пород, измененного растениями и животными
г) в результате распашки полей человеком
- 12. Какие горы принято считать границей между Европой и Азией?
а) Алтайские горы б) Уральские горы
в) Кавказские горы г) Воробьевы горы

Итого: 338 / Ласточкина В.А.
Малюткина М.А.

13. Какая из перечисленных гор находится в России и является высочайшей вершиной Европы?
- а) Эльбрус б) Эверест
в) Мак-Кинли г) Килиманджаро
14. Моря какого океана не омывают берега России?
- а) Индийского б) Тихого
в) Северного Ледовитого г) Атлантического
15. Какая из перечисленных рек находится в России и является самой длинной в Европе?
- а) Енисей б) Лена в) Нева г) Волга
16. В России находится самое глубокое озеро мира. Как оно называется?
- а) озеро Ильмень б) Ладожское озеро
в) озеро Байкал г) Онежское озеро
17. Полезные ископаемые – это...
- а) все минералы и горные породы, из которых состоит Земля.
б) минералы и горные породы, которые используют люди
в) полезные вещества, которые получают из горных пород и минералов.
18. Наиболее обширная природная зона России — это ...
- а) степь б) тундра в) пустыня г) тайга
19. Этот самый большой остров планеты, целиком покрыт льдами. Его коренные жители, эскимосы, занимаются охотой и рыболовством.
- а) Сахалин б) Гренландия в) Гавайи
20. Что такое карта полушарий?
- а) карта, на которой дано изображение какой-то территории.
б) карта, на которой изображены две половинки земного шара.
в) карта, на которой изображена Земля.

Часть II. 158

Разделите приведённые ниже слова на две группы: объекты природы и явления природы.

За каждый правильный ответ начисляется 1 балл.

бактерии	гроза	ледоход	озеро
ветер	землетрясение	листопад	половодье
воздух	камнепад	минералы	дерево
вулкан	родник	облако	спячка

Объекты природы	Явления природы
бактерии, воздух, вулкан, родник, ледоход	ветер, гроза, землетрясение, листопад, минералы, облако, половодье, спячка
минералы, дерево	

Часть III.

За каждый правильный ответ начисляется 1 балл.

1. Подбери общий материк для следующих организмов:

утконос, ехидна, кенгуру, дикая собака Динго, райские птицы.

Ответ: Австралия

2. Во всех этих словах течёт древнерусская река, впадающая в Азовское море.

Отыщи её название. В ответе напиши получившееся слово.

ЛАДОНЬ, ДОНОС, БИДОН

Ответ: Дон

3. Горилла – самая крупная из всех обезьян, живущих на Земле. Иногда ее вес не выдерживают даже большие деревья! Горилла очень сильная: мускулам на ее лапах может позавидовать любой спортсмен. Вспоминай, на каком континенте мы можем увидеть это удивительное животное в естественной среде обитания?

В ответе запиши название континента.

Ответ: Африка

4. Выберите ВСЕ правильные ответы.

Медуза – это живое существо, потому что она:

- а) плавает в морях
- б) размножается
- в) питается
- г) может находиться только в воде
- д) дышит

5. Выберите ВСЕ правильные ответы. Выберите из списка животных, занесённых в Красную книгу России.

- а) белый медведь
- б) русская выхухоль
- в) амурский тигр
- г) бурый медведь
- д) дальневосточный леопард

Часть IV. При выполнении заданий на соответствие к каждой позиции, данной в первом столбце, подберите соответствующую позицию из второго столбца.

Установите соответствие между исследователями (а-г) космоса и их достижениями (1-3).

а) Ю. Гагарин	1) Первый учёный, который доказал, что реальным средством освоения космоса станет ракета
б) С. Королёв	2) Первый полёт человека в космос
в) К. Циолковский	3) Организатор производства ракетно-космической техники
г) Н. Пилюгин	4) Создатель системы управления ракетами-носителями.

Задания школьного этапа Всероссийской олимпиады по географии
2023–2024 учебный год.

4 класс

Г-4-23

Время выполнения заданий – 45 минут

Максимальный балл за все задания – 50 баллов

Итого: 335

Уважаемые участники олимпиады, теоретический тур олимпиады включает 4 задания. Внимательно познакомьтесь с характером каждого из них и определите для себя последовательность выполнения работы. Ответы каждого из них запишите в листе ответов.

Начинать работу можно с любого задания, однако, рекомендуется выполнять задания в том порядке, в котором они даны. Если какое-то задание вызывает у вас затруднение, пропустите его и постарайтесь выполнить те, в ответах которых вы уверены. К пропущенным заданиям можно будет вернуться, если у вас останется время

156
Часть I. – 20 баллов (по 1 баллу за каждый правильный ответ).

Вопросы с выбором одного правильного ответа из четырёх предложенных.

- 1. В переводе с греческого языка «география» означает
а) описание Земли б) изучение Земли в) жизнь на Земле г) изменение Земли
- + 2. Что такое глобус?
а) модель Солнца б) модель Земли в) модель шара
- + 3. Какой признак отличает нашу планету от других «планет земной группы»?
а) имеет твёрдую поверхность
б) имеет атмосферу
в) имеет естественный спутник
г) присутствует вода в жидком, твёрдом и газообразном состоянии
- 4. К объектам живой природы относится
а) кристалл б) сосулька в) гриб г) луна
- 5. Кто из древних ученых первым предположил, что Земля имеет форму шара?
а) Пифагор б) Птолемей в) Коперник г) Аристотель
- + 6. Отметьте ряд, в котором указаны планеты, входящие в группу планет-гигантов.
а) Сатурн, Земля, Марс б) Марс, Венера, Юпитер
в) Земля, Плутон, Уран, Нептун г) Юпитер, Сатурн, Уран, Нептун
- + 7. Дополните утверждение: «На сегодняшний день существует ... материков».
а) 8 б) 4 в) 5 г) 6
- + 8. Какой материк называют Новым светом?
а) Африка б) Америка в) Антарктида г) Австралия.
- + 9. Как называется прибор для ориентирования на местности?
а) компас б) флюгер в) азимут г) барометр
- + 10. Если встать лицом на север, то с правой стороны будет:
а) юг б) восток в) запад г) северо – восток
- + 11. Как появилась почва?
а) она всегда была на планете
б) в результате извержения вулкана
в) из рыхлого слоя горных пород, измененного растениями и животными
г) в результате распашки полей человеком
- 12. Какие горы принято считать границей между Европой и Азией?
а) Алтайские горы б) Уральские горы
в) Кавказские горы г) Воровские горы

Итого: 335 / Машкина М.А.

- + 13. Какая из перечисленных гор находится в России и является высочайшей вершиной Европы?
 а) Эльбрус б) Эверест
 в) Мак-Кинли г) Килиманджаро
- + 14. Моря какого океана не омывают берега России?
 а) Индийского б) Тихого
 в) Северного Ледовитого г) Атлантического
- + 15. Какая из перечисленных рек находится в России и является самой длинной в Европе?
 а) Енисей б) Лена в) Нева г) Волга
- + 16. В России находится самое глубокое озеро мира. Как оно называется?
 а) озеро Ильмень б) Ладожское озеро
 в) озеро Байкал г) Онежское озеро
- 17. Полезные ископаемые – это...
 а) все минералы и горные породы, из которых состоит Земля.
 б) минералы и горные породы, которые используют люди
 в) полезные вещества, которые получают из горных пород и минералов.
- + 18. Наиболее обширная природная зона России — это ...
 а) степь б) тундра в) пустыня г) тайга
- + 19. Этот самый большой остров планеты, целиком покрыт льдами. Его коренные жители, эскимосы, занимаются охотой и рыболовством.
 а) Сахалин б) Гренландия в) Гавайи
- + 20. Что такое карта полушарий?
 а) карта, на которой дано изображение какой-то территории.
 б) карта, на которой изображены две половинки земного шара.
 в) карта, на которой изображена Земля.

Часть II. (108)

Разделите приведённые ниже слова на две группы: объекты природы и явления природы.

За каждый правильный ответ начисляется 1 балл.

бактерии	гроза	ледоход	озеро
ветер	землетрясение	листопад	половодье
воздух	камнепад	минералы	дерево
вулкан	родник	облако	спячка

Объекты природы	Явления природы
бактерии, минералы	ветер, воздух, вулканы
облако, спячка	гроза, землетрясение
	камнепад, родник
	ледоход, листопад
35	минералы
	озеро, половодье
	дерево
	48

48

Часть III.

За каждый правильный ответ начисляется 1 балл.

1. Подбери общий материк для следующих организмов:

утконос, ехидна, кенгуру, дикая собака Динго, райские птицы.

Ответ: Южная Америка

2. Во всех этих словах течёт древнерусская река, впадающая в Азовское море. Отыщи её название. В ответе напиши получившееся слово.

ЛАДОНЬ, ДОНОС, БИДОН

Ответ: Бирма

3. Горилла – самая крупная из всех обезьян, живущих на Земле. Иногда ее вес не выдерживают даже большие деревья! Горилла очень сильная: мускулам на ее лапах может позавидовать любой спортсмен. Вспоминай, на каком континенте мы можем увидеть это удивительное животное в естественной среде обитания?

В ответе запиши название континента.

Ответ: Африка

4. Выберите ВСЕ правильные ответы.

Медуза – это живое существо, потому что она:

- а) плавает в морях
- б) размножается
- в) питается
- г) может находиться только в воде
- д) дышит

5. Выберите ВСЕ правильные ответы. Выберите из списка животных, занесённых в Красную книгу России.

- а) белый медведь
- б) русская выхухоль
- в) амурский тигр
- г) бурый медведь
- д) лось
- е) дальневосточный леопард

48
Часть IV. При выполнении заданий на соответствие к каждой позиции, данной в первом столбце, подберите соответствующую позицию из второго столбца.

Установите соответствие между исследователями (а-г) космоса и их достижениями (1-3).

а) Ю. Гагарин	1) Первый учёный, который доказал, что реальным средством освоения космоса станет ракета
б) С. Королёв	2) Первый полёт человека в космос
в) К. Циолковский	3) Организатор производства ракетно-космической техники
г) Н. Пилюгин	4) Создатель системы управления ракетами-носителями.

T-4 N17.

Задания школьного этапа Всероссийской олимпиады по географии
2023–2024 учебный год.

4 класс

Итого: 318.

Время выполнения заданий – 45 минут

Максимальный балл за все задания – 50 баллов

Уважаемые участники олимпиады, теоретический тур олимпиады включает 4 задания. Внимательно познакомьтесь с характером каждого из них и определите для себя последовательность выполнения работы. Ответы каждого из них запишите в листе ответов.

Начинать работу можно с любого задания, однако, рекомендуется выполнять задания в том порядке, в котором они даны. Если какое-то задание вызывает у вас затруднение, пропустите его и постарайтесь выполнить те, в ответах которых вы уверены. К пропущенным заданиям можно будет вернуться, если у вас останется время

125

Часть I. – 20 баллов (по 1 баллу за каждый правильный ответ).

Вопросы с выбором одного правильного ответа из четырёх предложенных.

- 1. В переводе с греческого языка «география» означает
 - а) описание Земли б) изучение Земли в) жизнь на Земле г) изменение Земли
- + 2. Что такое глобус?
 - а) модель Солнца б) модель Земли в) модель шара
- + 3. Какой признак отличает нашу планету от других «планет земной группы»?
 - а) имеет твёрдую поверхность
 - б) имеет атмосферу
 - в) имеет естественный спутник
 - г) присутствует вода в жидком, твёрдом и газообразном состоянии
- + 4. К объектам живой природы относится
 - а) кристалл б) сосулька в) гриб г) луна
- + 5. Кто из древних ученых первым предположил, что Земля имеет форму шара?
 - а) Пифагор б) Птолемей в) Коперник г) Аристотель
- + 6. Отметьте ряд, в котором указаны планеты, входящие в группу планет-гигантов.
 - а) Сатурн, Земля, Марс б) Марс, Венера, Юпитер
 - в) Земля, Плутон, Уран, Нептун г) Юпитер, Сатурн, Уран, Нептун
- 7. Дополните утверждение: «На сегодняшний день существует ... материков».
 - а) 8 б) 4 в) 5 г) 6
- + 8. Какой материк называют Новым светом?
 - а) Африка б) Америка в) Антарктида г) Австралия.
- + 9. Как называется прибор для ориентирования на местности?
 - а) компас б) флюгер в) азимут г) барометр
- 10. Если встать лицом на север, то с правой стороны будет:
 - а) юг б) восток в) запад г) северо – восток
- 11. Как появилась почва?
 - а) она всегда была на планете
 - б) в результате извержения вулкана
 - в) из рыхлого слоя горных пород, измененного растениями и животными
 - г) в результате распашки полей человеком
- + 12. Какие горы принято считать границей между Европой и Азией?
 - а) Алтайские горы б) Уральские горы
 - в) Кавказские горы г) Воробьевы горы

Итого: 318 / Мамочкина В.А.
Мамочкина М.А.

13. Какая из перечисленных гор находится в России и является высочайшей вершиной Европы?

- а) Эльбрус б) Эверест
в) Мак-Кинли г) Килиманджаро

14. Моря какого океана не омывают берега России?

- а) Индийского б) Тихого
в) Северного Ледовитого г) Атлантического

15. Какая из перечисленных рек находится в России и является самой длинной в Европе?

- а) Енисей б) Лена в) Нева г) Волга

16. В России находится самое глубокое озеро мира. Как оно называется?

- а) озеро Ильмень б) Ладожское озеро
в) озеро Байкал г) Онежское озеро

17. Полезные ископаемые – это...

- а) все минералы и горные породы, из которых состоит Земля.
б) минералы и горные породы, которые используют люди
в) полезные вещества, которые получают из горных пород и минералов.

18. Наиболее обширная природная зона России — это ...

- а) степь б) тундра в) пустыня г) тайга

19. Этот самый большой остров планеты, целиком покрыт льдами. Его коренные жители, эскимосы, занимаются охотой и рыболовством.

- а) Сахалин б) Гренландия в) Гавайи

20. Что такое карта полушарий?

- а) карта, на которой дано изображение какой-то территории.
б) карта, на которой изображены две половинки земного шара.
в) карта, на которой изображена Земля.

Часть II.

105

Разделите приведённые ниже слова на две группы: объекты природы и явления природы.

За каждый правильный ответ начисляется 1 балл.

^{объект} бактерии	^{явл} гроза	^{явл} ледоход	^{объект} озеро
^{явл} ветер	^{явл} землетрясение	^{явл} листопад	^{объект} половодье
^{явл} воздух	^{объект} камнепад	^{явл} минералы	^{объект} дерево
^{явл} вулкан	^{объект} родник	^{явл} облако	^{явл} спячка

Объекты природы	Явления природы
Бактерия +	Ветер +
камнепад -	воздух -
минералы +	вулкан -
родник +	гроза +
озеро +	землетрясение +
половодье -	ледоход +
дерево +	облако -
	спячка +

85

Часть III.

За каждый правильный ответ начисляется 1 балл.

1. Подбери общий материк для следующих организмов:

утконос, ехидна, кенгуру, дикая собака Динго, райские птицы.

Ответ: райские птицы

2. Во всех этих словах течёт древнерусская река, впадающая в Азовское море.

Отыщи её название. В ответе напиши получившееся слово.

ЛАДОНЬ, ДОНОС, БИДОН

Ответ: Бидон

3. Горилла – самая крупная из всех обезьян, живущих на Земле. Иногда ее вес не выдерживают даже большие деревья! Горилла очень сильная: мускулам на ее лапах может позавидовать любой спортсмен. Вспоминай, на каком континенте мы можем увидеть это удивительное животное в естественной среде обитания?

В ответе запиши название континента.

Ответ: Африка

4. Выберите ВСЕ правильные ответы.

Медуза – это живое существо, потому что она:

- а) плавает в морях
- б) размножается
- в) питается
- г) может находиться только в воде
- д) дышит

5. Выберите ВСЕ правильные ответы. Выберите из списка животных, занесённых в Красную книгу России.

- а) белый медведь
- б) русская выхухоль
- в) амурский тигр
- г) бурый медведь
- д) лось
- е) дальневосточный леопард

18

Часть IV. При выполнении заданий на соответствие к каждой позиции, данной в первом столбце, подберите соответствующую позицию из второго столбца.

Установите соответствие между исследователями (а-г) космоса и их достижениями (1-3).

а) Ю. Гагарин	1) Первый учёный, который доказал, что реальным средством освоения космоса станет ракета
б) С. Королёв	2) Первый полёт человека в космос
в) К. Циолковский	3) Организатор производства ракетно-космической техники
г) Н. Пилюгин	4) Создатель системы управления ракетами-носителями.

2-4-22

Задания школьного этапа Всероссийской олимпиады по географии
2023–2024 учебный год.

4 класс

Время выполнения заданий – 45 минут

Максимальный балл за все задания – 50 баллов

Умно: 318

Уважаемые участники олимпиады, теоретический тур олимпиады включает 4 задания. Внимательно познакомьтесь с характером каждого из них и определите для себя последовательность выполнения работы. Ответы каждого из них запишите в листе ответов.

Начинать работу можно с любого задания, однако, рекомендуется выполнять задания в том порядке, в котором они даны. Если какое-то задание вызывает у вас затруднение, пропустите его и постарайтесь выполнить те, в ответах которых вы уверены. К пропущенным заданиям можно будет вернуться, если у вас останется время

105
Часть I. – 20 баллов (по 1 баллу за каждый правильный ответ).

Вопросы с выбором одного правильного ответа из четырёх предложенных.

+ 1. В переводе с греческого языка «география» означает

- а) описание Земли б) изучение Земли в) жизнь на Земле г) изменение Земли

+ 2. Что такое глобус?

- а) модель Солнца б) модель Земли в) модель шара

- 3. Какой признак отличает нашу планету от других «планет земной группы»?

- а) имеет твёрдую поверхность
 б) имеет атмосферу
 в) имеет естественный спутник
 г) присутствует вода в жидком, твёрдом и газообразном состоянии

+ 4. К объектам живой природы относится

- а) кристалл б) сосулька в) гриб г) луна

- 5. Кто из древних ученых первым предположил, что Земля имеет форму шара?

- а) Пифагор б) Птолемей в) Коперник г) Аристотель

+ 6. Отметьте ряд, в котором указаны планеты, входящие в группу планет-гигантов.

- а) Сатурн, Земля, Марс б) Марс, Венера, Юпитер
 в) Земля, Плутон, Уран, Нептун г) Юпитер, Сатурн, Уран, Нептун

- 7. Дополните утверждение: «На сегодняшний день существует ... материков».

- а) 8 б) 4 в) 5 г) 6

- 8. Какой материк называют Новым светом?

- а) Африка б) Америка в) Антарктида г) Австралия.

+ 9. Как называется прибор для ориентирования на местности?

- а) компас б) флюгер в) азимут г) барометр

- 10. Если встать лицом на север, то с правой стороны будет:

- а) юг б) восток в) запад г) северо – восток

+ 11. Как появилась почва?

- а) она всегда была на планете
 б) в результате извержения вулкана
 в) из рыхлого слоя горных пород, измененного растениями и животными
 г) в результате распашки полей человеком

- 12. Какие горы принято считать границей между Европой и Азией?

- а) Алтайские горы б) Уральские горы
 в) Кавказские горы г) Воровьевы горы

Шари: В.И. / Машюткина В.А.
Машюткина М.А.

13. Какая из перечисленных гор находится в России и является высочайшей вершиной Европы?
- а) Эльбрус б) Эверест
в) Мак-Кинли г) Килиманджаро
14. Моря какого океана не омывают берега России?
- а) Индийского б) Тихого
в) Северного Ледовитого г) Атлантического
15. Какая из перечисленных рек находится в России и является самой длинной в Европе?
- а) Енисей б) Лена в) Нева г) Волга
16. В России находится самое глубокое озеро мира. Как оно называется?
- а) озеро Ильмень б) Ладожское озеро
в) озеро Байкал г) Онежское озеро
17. Полезные ископаемые – это...
- а) все минералы и горные породы, из которых состоит Земля.
б) минералы и горные породы, которые используют люди
в) полезные вещества, которые получают из горных пород и минералов.
18. Наиболее обширная природная зона России — это ...
- а) степь б) тундра в) пустыня г) тайга
19. Этот самый большой остров планеты, целиком покрыт льдами. Его коренные жители, эскимосы, занимаются охотой и рыболовством.
- а) Сахалин б) Гренландия в) Гавайи
20. Что такое карта полушарий?
- а) карта, на которой дано изображение какой-то территории.
б) карта, на которой изображены две половинки земного шара.
в) карта, на которой изображена Земля.

Часть II. (165)

Разделите приведённые ниже слова на две группы: объекты природы и явления природы.

За каждый правильный ответ начисляется 1 балл.

бактерии	гроза	ледоход	озеро
ветер	землетрясение	листопад	половодье
воздух	камнепад	минералы	дерево
вулкан	родник	облако	спячка

Объекты природы	Явления природы
Бактерии +	ветер +
воздух +	гроза +
вулкан +	землетрясение +
родник +	камнепад +
минералы +	ледоход +
облако +	листопад +
озеро +	половодье +
дерево +	спячка +

88

85

**Задания школьного этапа Всероссийской олимпиады по географии
2023–2024 учебный год.**

4 класс

Итого: 30б.

**Время выполнения заданий – 45 минут
Максимальный балл за все задания – 50 баллов**

Уважаемые участники олимпиады, теоретический тур олимпиады включает 4 задания. Внимательно познакомьтесь с характером каждого из них и определите для себя последовательность выполнения работы. Ответы каждого из них запишите в листе ответов. Начинать работу можно с любого задания, однако, рекомендуется выполнять задания в том порядке, в котором они даны. Если какое-то задание вызывает у вас затруднение, пропустите его и постарайтесь выполнить те, в ответах которых вы уверены. К пропущенным заданиям можно будет вернуться, если у вас останется время

10б

**Часть I. – 20 баллов (по 1 баллу за каждый правильный ответ).
Вопросы с выбором одного правильного ответа из четырёх предложенных.**

- 1. В переводе с греческого языка «география» означает
 - а) описание Земли
 - б) изучение Земли
 - в) жизнь на Земле
 - г) изменение Земли
- + 2. Что такое глобус?
 - а) модель Солнца
 - б) модель Земли
 - в) модель шара
- 3. Какой признак отличает нашу планету от других «планет земной группы»?
 - а) имеет твёрдую поверхность
 - б) имеет атмосферу
 - в) имеет естественный спутник
 - г) присутствует вода в жидком, твёрдом и газообразном состоянии
- + 4. К объектам живой природы относится
 - а) кристалл
 - б) сосулька
 - в) гриб
 - г) луна
- 5. Кто из древних ученых первым предположил, что Земля имеет форму шара?
 - а) Пифагор
 - б) Птолемей
 - в) Коперник
 - г) Аристотель
- 6. Отметьте ряд, в котором указаны планеты, входящие в группу планет-гигантов.
 - а) Сатурн, Земля, Марс
 - б) Марс, Венера, Юпитер
 - в) Земля, Плутон, Уран, Нептун
 - г) Юпитер, Сатурн, Уран, Нептун
- 7. Дополните утверждение: «На сегодняшний день существует ... материков».
 - а) 8
 - б) 4
 - в) 5
 - г) 6
- + 8. Какой материк называют Новым светом?
 - а) Африка
 - б) Америка
 - в) Антарктида
 - г) Австралия.
- + 9. Как называется прибор для ориентирования на местности?
 - а) компас
 - б) флюгер
 - в) азимут
 - г) барометр
- 10. Если встать лицом на север, то с правой стороны будет:
 - а) юг
 - б) восток
 - в) запад
 - г) северо – восток
- + 11. Как появилась почва?
 - а) она всегда была на планете
 - б) в результате извержения вулкана
 - в) из рыхлого слоя горных пород, измененного растениями и животными
 - г) в результате распашки полей человеком
- 12. Какие горы принято считать границей между Европой и Азией?
 - а) Алтайские горы
 - б) Уральские горы
 - в) Кавказские горы
 - г) Воробьевы горы

*Мюри: Рубин / Мамонтова В.А
Мюри: Мамонтова М.А*

- + 13. Какая из перечисленных гор находится в России и является высочайшей вершиной Европы?
 а) Эльбрус б) Эверест
 в) Мак-Кинли г) Килиманджаро
- + 14. Моря какого океана не омывают берега России?
 а) Индийского б) Тихого
 в) Северного Ледовитого г) Атлантического
- + 15. Какая из перечисленных рек находится в России и является самой длинной в Европе?
 а) Енисей б) Лена в) Нева г) Волга
- 16. В России находится самое глубокое озеро мира. Как оно называется?
 а) озеро Ильмень б) Ладожское озеро
 в) озеро Байкал г) Онежское озеро
- 17. Полезные ископаемые – это...
 а) все минералы и горные породы, из которых состоит Земля.
 б) минералы и горные породы, которые используют люди
 в) полезные вещества, которые получают из горных пород и минералов.
- + 18. Наиболее обширная природная зона России — это ...
 а) степь б) тундра в) пустыня г) тайга
- 19. Этот самый большой остров планеты, целиком покрыт льдами. Его коренные жители, эскимосы, занимаются охотой и рыболовством.
 а) Сахалин б) Гренландия в) Гавайи
- + 20. Что такое карта полушарий?
 а) карта, на которой дано изображение какой-то территории.
 б) карта, на которой изображены две половинки земного шара.
 в) карта, на которой изображена Земля.

Часть II.

128

Разделите приведённые ниже слова на две группы: объекты природы и явления природы.

За каждый правильный ответ начисляется 1 балл.

бактерии	гроза	ледоход	озеро
ветер	землетрясение	листопад	половодье
воздух	камнепад	минералы	дерево
вулкан	родник	облако	спячка

Объекты природы	Явления природы
Вулкан +	Бактерии -
Родник +	Ветер +
Ледоход -	Гроза +
Минералы +	Землетрясение +
Облако +	Камнепад +
Озеро +	Листопад +
Половодье -	Спячка +
Дерево +	Воздух -

65

68

Часть III.

68

За каждый правильный ответ начисляется 1 балл.

1. Подбери общий материк для следующих организмов: утконос, ехидна, кенгуру, дикая собака Динго, райские птицы.

Ответ: Южная Америка

2. Во всех этих словах течёт древнерусская река, впадающая в Азовское море. Отыщи её название. В ответе напиши получившееся слово.

ЛАДОНЬ, ДОНОС, БИДОН

Ответ: Дон

3. Горилла – самая крупная из всех обезьян, живущих на Земле. Иногда ее вес не выдерживают даже большие деревья! Горилла очень сильная: мускулам на ее лапах может позавидовать любой спортсмен. Вспоминай, на каком континенте мы можем увидеть это удивительное животное в естественной среде обитания?

В ответе запиши название континента.

Ответ: Африка

4. Выберите ВСЕ правильные ответы.

Медуза – это живое существо, потому что она:

- 38 - а) плавает в морях
- б) размножается
- в) питается
- г) может находиться только в воде
- д) дышит

5. Выберите ВСЕ правильные ответы. Выберите из списка животных, занесённых в Красную книгу России.

- 25 + а) белый медведь
- б) русская выхухоль
- в) амурский тигр
- г) бурый медведь
- д) лось
- + е) дальневосточный леопард

Часть IV. При выполнении заданий на соответствие к каждой позиции, данной в первом столбце, подберите соответствующую позицию из второго столбца.

Установите соответствие между исследователями (а-г) космоса и их достижениями (1-3).

25

а) Ю. Гагарин	1) Первый учёный, который доказал, что реальным средством освоения космоса станет ракета
б) С. Королёв	2) Первый полёт человека в космос
в) К. Циолковский	3) Организатор производства ракетно-космической техники
г) Н. Пилюгин	4) Создатель системы управления ракетами-носителями.

Г-4-34

Задания школьного этапа Всероссийской олимпиады по географии 2023–2024 учебный год.

4 класс

Итого: 30б

Время выполнения заданий – 45 минут

Максимальный балл за все задания – 50 баллов

Уважаемые участники олимпиады, теоретический тур олимпиады включает 4 задания. Внимательно познакомьтесь с характером каждого из них и определите для себя последовательность выполнения работы. Ответы каждого из них запишите в листе ответов.

Начинать работу можно с любого задания, однако, рекомендуется выполнять задания в том порядке, в котором они даны. Если какое-то задание вызывает у вас затруднение, пропустите его и постарайтесь выполнить те, в ответах которых вы уверены. К пропущенным заданиям можно будет вернуться, если у вас останется время

11б

Часть I. – 20 баллов (по 1 баллу за каждый правильный ответ).

Вопросы с выбором одного правильного ответа из четырёх предложенных.

1. В переводе с греческого языка «география» означает
а) описание Земли б) изучение Земли в) жизнь на Земле г) изменение Земли

2. Что такое глобус?
а) модель Солнца б) модель Земли в) модель шара

3. Какой признак отличает нашу планету от других «планет земной группы»?
а) имеет твёрдую поверхность
б) имеет атмосферу
 в) имеет естественный спутник
г) присутствует вода в жидком, твёрдом и газообразном состоянии

4. К объектам живой природы относится
а) кристалл б) сосулька в) гриб г) луна

5. Кто из древних ученых первым предположил, что Земля имеет форму шара?
 а) Пифагор б) Птолемей в) Коперник г) Аристотель

6. Отметьте ряд, в котором указаны планеты, входящие в группу планет-гигантов.
а) Сатурн, Земля, Марс б) Марс, Венера, Юпитер
в) Земля, Плутон, Уран, Нептун г) Юпитер, Сатурн, Уран, Нептун

7. Дополните утверждение: «На сегодняшний день существует ... материков».
а) 8 б) 4 в) 5 г) 6

8. Какой материк называют Новым светом?
а) Африка б) Америка в) Антарктида г) Австралия.

9. Как называется прибор для ориентирования на местности?
 а) компас б) флюгер в) азимут г) барометр

10. Если встать лицом на север, то с правой стороны будет:
 а) юг б) восток в) запад г) северо – восток

11. Как появилась почва?
а) она всегда была на планете
б) в результате извержения вулкана
 в) из рыхлого слоя горных пород, измененного растениями и животными
г) в результате распашки полей человеком

12. Какие горы принято считать границей между Европой и Азией?
а) Алтайские горы б) Уральские горы
в) Кавказские горы г) Воробьевы горы

Итого: 30б
Малюткина М.А.

45

Часть III.

За каждый правильный ответ начисляется 1 балл.

1. Подбери общий материк для следующих организмов:

утконос, ехидна, кенгуру, дикая собака Динго, райские птицы.

Ответ: утконос, кенгуру, райские птицы

2. Во всех этих словах течёт древнерусская река, впадающая в Азовское море. Отыщи её название. В ответе напиши получившееся слово.

ЛАДОНЬ, ДОНОС, БИДОН

Ответ: _____

3. Горилла – самая крупная из всех обезьян, живущих на Земле. Иногда ее вес не выдерживают даже большие деревья! Горилла очень сильная: мускулам на ее лапах может позавидовать любой спортсмен. Вспоминай, на каком континенте мы можем увидеть это удивительное животное в естественной среде обитания?

В ответе запиши название континента.

Ответ: Африка

4. Выберите ВСЕ правильные ответы.

Медуза – это живое существо, потому что она:

- а) плавает в морях
- б) размножается
- в) питается
- г) может находиться только в воде
- д) дышит

5. Выберите ВСЕ правильные ответы. Выберите из списка животных, занесённых в Красную книгу России.

- а) белый медведь
- б) русская выхухоль
- в) амурский тигр
- г) бурый медведь
- д) лось
- е) дальневосточный леопард

Часть IV. При выполнении заданий на соответствие к каждой позиции, данной в первом столбце, подберите соответствующую позицию из второго столбца.

Установите соответствие между исследователями (а-г) космоса и их достижениями (1-3).

<input checked="" type="checkbox"/> а) Ю. Гагарин	1) Первый учёный, который доказал, что реальным средством освоения космоса станет ракета
<input checked="" type="checkbox"/> б) С. Королёв	2) Первый полёт человека в космос
<input checked="" type="checkbox"/> в) К. Циолковский	3) Организатор производства ракетно-космической техники
<input checked="" type="checkbox"/> г) Н. Пилюгин	4) Создатель системы управления ракетами-носителями.

25

J-4-16

**Задания школьного этапа Всероссийской олимпиады по географии
2023–2024 учебный год.**

4 класс

Учото: 358

Время выполнения заданий – 45 минут

Максимальный балл за все задания – 50 баллов

Уважаемые участники олимпиады, теоретический тур олимпиады включает 4 задания. Внимательно познакомьтесь с характером каждого из них и определите для себя последовательность выполнения работы. Ответы каждого из них запишите в листе ответов.

Начинать работу можно с любого задания, однако, рекомендуется выполнять задания в том порядке, в котором они даны. Если какое-то задание вызывает у вас затруднение, пропустите его и постарайтесь выполнить те, в ответах которых вы уверены. К пропущенным заданиям можно будет вернуться, если у вас останется время

125

Часть I. – 20 баллов (по 1 баллу за каждый правильный ответ).

Вопросы с выбором одного правильного ответа из четырёх предложенных.

- 1. В переводе с греческого языка «география» означает
а) описание Земли б) изучение Земли в) жизнь на Земле г) изменение Земли
- + 2. Что такое глобус?
а) модель Солнца б) модель Земли в) модель шара
- + 3. Какой признак отличает нашу планету от других «планет земной группы»?
а) имеет твёрдую поверхность
 б) имеет атмосферу
в) имеет естественный спутник
г) присутствует вода в жидком, твёрдом и газообразном состоянии
- + 4. К объектам живой природы относится
а) кристалл б) сосулька в) гриб г) луна
- + 5. Кто из древних ученых первым предположил, что Земля имеет форму шара?
 а) Пифагор б) Птолемей в) Коперник г) Аристотель
- 6. Отметьте ряд, в котором указаны планеты, входящие в группу планет-гигантов.
а) Сатурн, Земля, Марс б) Марс, Венера, Юпитер
в) Земля, Плутон, Уран, Нептун г) Юпитер, Сатурн, Уран, Нептун
- 7. Дополните утверждение: «На сегодняшний день существует ... материков».
а) 8 б) 4 в) 5 г) 6
- 8. Какой материк называют Новым светом?
а) Африка б) Америка в) Антарктида г) Австралия.
- + 9. Как называется прибор для ориентирования на местности?
 а) компас б) флюгер в) азимут г) барометр
- 10. Если встать лицом на север, то с правой стороны будет:
а) юг б) восток в) запад г) северо – восток
- + 11. Как появилась почва?
а) она всегда была на планете
б) в результате извержения вулкана
 в) из рыхлого слоя горных пород, измененного растениями и животными
г) в результате распашки полей человеком
- + 12. Какие горы принято считать границей между Европой и Азией?
а) Алтайские горы б) Уральские горы
в) Кавказские горы г) Воробьевы горы

Ищри: Ласточкина В.А. Шел Малюткина М.А.

Часть III.

За каждый правильный ответ начисляется 1 балл.

1. Подбери общий материк для следующих организмов:

утконос, ехидна, кенгуру, дикая собака Динго, райские птицы.

Ответ: Африка

2. Во всех этих словах течёт древнерусская река, впадающая в Азовское море. Отыщи её название. В ответе напиши получившееся слово.

ЛАДОНЬ, ДОНОС, БИДОН

Ответ: _____

3. Горилла – самая крупная из всех обезьян, живущих на Земле. Иногда ее вес не выдерживают даже большие деревья! Горилла очень сильная: мускулам на ее лапах может позавидовать любой спортсмен. Вспоминай, на каком континенте мы можем увидеть это удивительное животное в естественной среде обитания?

В ответе запиши название континента.

Ответ: Африка

4. Выберите ВСЕ правильные ответы.

Медуза – это живое существо, потому что она:

- а) плавает в морях
- б) размножается
- в) питается
- г) может находиться только в воде
- д) дышит

5. Выберите ВСЕ правильные ответы. Выберите из списка животных, занесённых в Красную книгу России.

- а) белый медведь
- б) русская выхухоль
- в) амурский тигр
- г) бурый медведь
- д) лось
- е) дальневосточный леопард

Часть IV. При выполнении заданий на соответствие к каждой позиции, данной в первом столбце, подберите соответствующую позицию из второго столбца. Установите соответствие между исследователями (а-г) космоса и их достижениями (1-3).

а) Ю. Гагарин	1) Первый учёный, который доказал, что реальным средством освоения космоса станет ракета
б) С. Королёв	2) Первый полёт человека в космос
в) К. Циолковский	3) Организатор производства ракетно-космической техники
г) Н. Пилюгин	4) Создатель системы управления ракетами-носителями.

Т-4-01

Задания школьного этапа Всероссийской олимпиады по географии
2023–2024 учебный год.

4 класс

Итого: 308

Время выполнения заданий – 45 минут

Максимальный балл за все задания – 50 баллов

Уважаемые участники олимпиады, теоретический тур олимпиады включает 4 задания. Внимательно познакомьтесь с характером каждого из них и определите для себя последовательность выполнения работы. Ответы каждого из них запишите в листе ответов.

Начинать работу можно с любого задания, однако, рекомендуется выполнять задания в том порядке, в котором они даны. Если какое-то задание вызывает у вас затруднение, пропустите его и постарайтесь выполнить те, в ответах которых вы уверены. К пропущенным заданиям можно будет вернуться, если у вас останется время

95

Часть I. – 20 баллов (по 1 баллу за каждый правильный ответ).

Вопросы с выбором одного правильного ответа из четырёх предложенных.

- 1. В переводе с греческого языка «география» означает
а) описание Земли б) изучение Земли в) жизнь на Земле г) изменение Земли
- + 2. Что такое глобус?
а) модель Солнца б) модель Земли в) модель шара
- 3. Какой признак отличает нашу планету от других «планет земной группы»?
а) имеет твёрдую поверхность
б) имеет атмосферу
в) имеет естественный спутник
г) присутствует вода в жидком, твёрдом и газообразном состоянии
- + 4. К объектам живой природы относится
а) кристалл б) сосулька в) гриб г) луна
- 5. Кто из древних ученых первым предположил, что Земля имеет форму шара?
а) Пифагор б) Птолемей в) Коперник г) Аристотель
- + 6. Отметьте ряд, в котором указаны планеты, входящие в группу планет-гигантов.
а) Сатурн, Земля, Марс б) Марс, Венера, Юпитер
в) Земля, Плутон, Уран, Нептун г) Юпитер, Сатурн, Уран, Нептун
- 7. Дополните утверждение: «На сегодняшний день существует ... материков».
а) 8 б) 4 в) 5 г) 6
- 8. Какой материк называют Новым светом?
а) Африка б) Америка в) Антарктида г) Австралия.
- 9. Как называется прибор для ориентирования на местности?
а) компас б) флюгер в) азимут г) барометр
- 10. Если встать лицом на север, то с правой стороны будет:
а) юг б) восток в) запад г) северо – восток
- + 11. Как появилась почва?
а) она всегда была на планете
б) в результате извержения вулкана
в) из рыхлого слоя горных пород, измененного растениями и животными
г) в результате распашки полей человеком
- 12. Какие горы принято считать границей между Европой и Азией?
а) Алтайские горы б) Уральские горы
в) Кавказские горы г) Воробьевы горы

Жюри: В.А. Мамонтова В.А.
Л.А. Мамонтова М.А.

13. Какая из перечисленных гор находится в России и является высочайшей вершиной Европы?

- а) Эльбрус б) Эверест
в) Мак-Кинли г) Килиманджаро

14. Моря какого океана не омывают берега России?

- а) Индийского б) Тихого
в) Северного Ледовитого г) Атлантического

15. Какая из перечисленных рек находится в России и является самой длинной в Европе?

- а) Енисей б) Лена в) Нева г) Волга

16. В России находится самое глубокое озеро мира. Как оно называется?

- а) озеро Ильмень б) Ладожское озеро
в) озеро Байкал г) Онежское озеро

17. Полезные ископаемые – это...

- а) все минералы и горные породы, из которых состоит Земля.
б) минералы и горные породы, которые используют люди
в) полезные вещества, которые получают из горных пород и минералов.

18. Наиболее обширная природная зона России — это ...

- а) степь б) тундра в) пустыня г) тайга

19. Этот самый большой остров планеты, целиком покрыт льдами. Его коренные жители, эскимосы, занимаются охотой и рыболовством.

- а) Сахалин б) Гренландия в) Гавайи

20. Что такое карта полушарий?

- а) карта, на которой дано изображение какой-то территории.
б) карта, на которой изображены две половинки земного шара.
в) карта, на которой изображена Земля.

Часть II. 148

Разделите приведённые ниже слова на две группы: объекты природы и явления природы.

За каждый правильный ответ начисляется 1 балл.

бактерии	гроза	ледоход	озеро
ветер	землетрясение	листопад	половодье
воздух	камнепад	минералы	дерево
вулкан	родник	облако	спячка

Объекты природы	Явления природы
дерево +	гроза +
родник +	землетрясение +
воздух +	камнепад +
бактерии +	половодье +
минералы +	вулкан -
облако +	ледоход +
листопад -	ветер +
озеро +	спячка +

48

48

Часть III. (58)

За каждый правильный ответ начисляется 1 балл.

1. Подбери общий материк для следующих организмов:

утконос, ехидна, кенгуру, дикая собака Динго, райские птицы.

Ответ: _____

2. Во всех этих словах течёт древнерусская река, впадающая в Азовское море.

Отыщи её название. В ответе напиши получившееся слово.

ЛАДОНЬ, ДОНОС, БИДОН

Ответ: _____

3. Горилла – самая крупная из всех обезьян, живущих на Земле. Иногда ее вес не выдерживают даже большие деревья! Горилла очень сильная: мускулам на ее лапах может позавидовать любой спортсмен. Вспоминай, на каком континенте мы можем увидеть это удивительное животное в естественной среде обитания?

В ответе запиши название континента.

Ответ: Север

4. Выберите ВСЕ правильные ответы.

Медуза – это живое существо, потому что она:

- а) плавает в морях
- б) размножается
- в) питается
- г) может находиться только в воде
- д) дышит

5. Выберите ВСЕ правильные ответы. Выберите из списка животных, занесённых в Красную книгу России.

- а) белый медведь
- б) русская выхухоль
- в) амурский тигр
- г) бурый медведь
- д) лось
- е) дальневосточный леопард

Часть IV. При выполнении заданий на соответствие к каждой позиции, данной в первом столбце, подберите соответствующую позицию из второго столбца.

Установите соответствие между исследователями (а-г) космоса и их достижениями (1-3).

а) Ю. Гагарин	1) Первый учёный, который доказал, что реальным средством освоения космоса станет ракета
б) С. Королёв	2) Первый полёт человека в космос
в) К. Циолковский	3) Организатор производства ракетно-космической техники
г) Н. Пилюгин	4) Создатель системы управления ракетами-носителями.

БЛАНК ОТВЕТОВ

ШИФР: Г-5-02

Теоретический тур

1.

1	2	3	4
Г+	Б-	В-	А-

18

2.

1	2	3	4
растительные		красные+	

18

Итого: 158

3. треугольник 18

4. 08

5. 5 08

6. 12 18

7. В 08

8.

1	2	3	4
Г+	В+	А-	Б-




25

9. 5 18

10. 5 18

Практический тур

1.

	Широколиственный лес
	Ключ, родник
	Сплошные заросли кустарника

08

2.

Объект	Сторона горизонта
Еловый лес	с в +
Болото	ю +
Тропинка	з +
Дом	ю в +

48

3. 10 38

Жюри: А.А. Матюшина В.А.
М.А. Матюшина М.А.

БЛАНК ОТВЕТОВ

Теоретический тур

ШИФР: Г-9-08

1.

1	2	3	4	5
В	Г	Б	А	Д

5 итого
265
2.

1	2	3	4	5
Арктика	Балтика	Кавказ	Удаль	Восток
	Балтика	Флорид		Калифорния

3
3. Аназона 1
4. Кипри 0
5. еА 1
6. Г 0
7. Г 1
8.

1	2	3	4
Г	В	Б	ВА

4
9. В 1
10. А 1
11. ЗГЕ 3
12. Ч 1
13. З 1
14. З 1
15. а 0

жюри *Б. Тришневич С.В.*
М.А. Машоткина

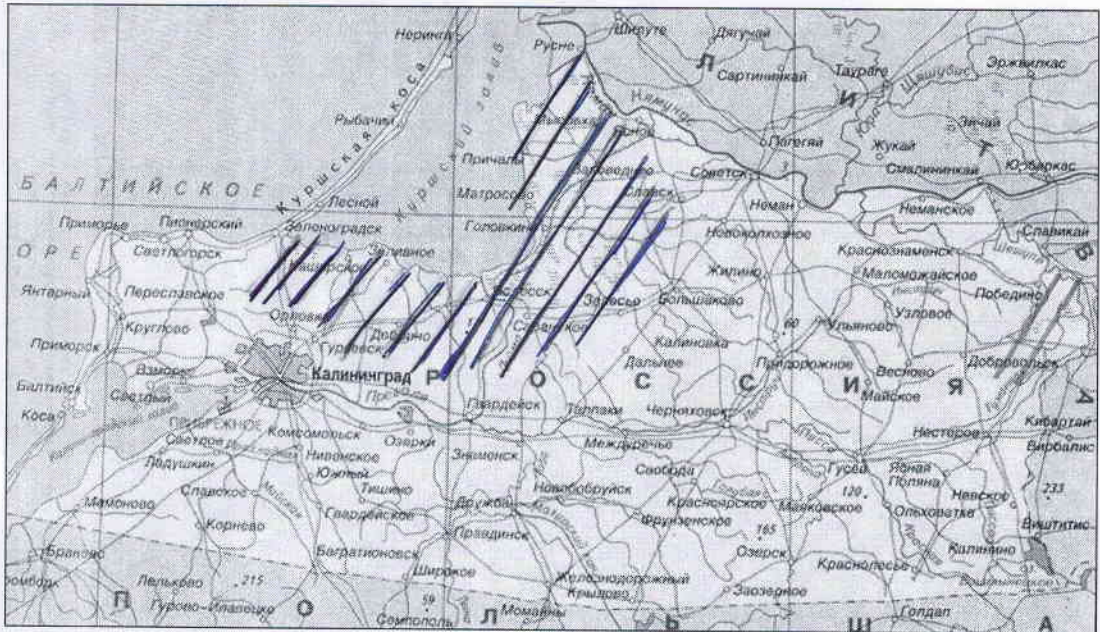
Практический тур

1.

1. Ошибка в логическом ряду	
2. Обоснование исключения	

2.

Баллы: итого 76.



3.

№	Объединяющий признак	Белая ворона	Объяснение	Продолжение логического ряда
1				
2				
3	Наличие мёра	Владивосток	Наличие мёра	Камчатка - Северный
4	Наличие впадины	Респ. Карелия	находятся севернее	Респ. Крым
5	Туризм	Зима	не туристический	Калининград

БЛАНК ОТВЕТОВ

Теоретический тур

ШИФР: Г-9-01

- | | | | | | | |
|----|---|---|---|---|---|---|
| 1. | 1 | 2 | 3 | 4 | 5 | 5 |
| | В | Г | Б | А | А | |
- ↑ ↑ ↑ ↑ ↑
- | | | | | | | |
|----|---|--------------|---------|--------|------------|---|
| 2. | 1 | 2 | 3 | 4 | 5 | 3 |
| | | Башкортостан | Мексика | Юкатан | Калифорния | |
- ↑ ↑ ↑ ↑
3. Амазонка 1
4. Онежское 1
5. ~~Б~~ 0
6. ~~А~~ 1
7. В 0
- | | | | | | |
|----|---|---|---|---|---|
| 8. | 1 | 2 | 3 | 4 | 2 |
| | Г | А | Б | В | |
- ↑ ↑ ↑ ↑
9. В 1
10. А 1
11. ~~А~~, Ж, Г, ~~Б~~, Е, З 4
12. Ч 1
13. В 1
14. З 1
15. Г 1

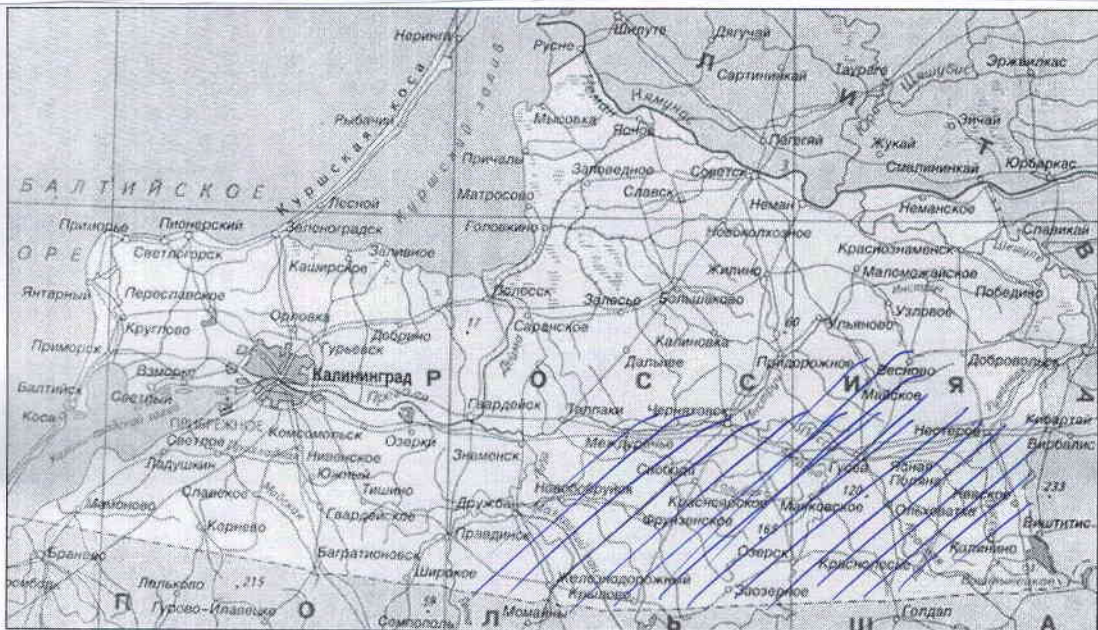
Итого
245

Жюри: З. Тришкевич С. В.
Мед. Мамонтова М. А.

Практический тур

Ошибка в логическом ряду	Двууробий верблюд	0
2. Обоснование исключения	Процветает в дикой природе зоны ^{Зоне}	

2. Заштрихованная площадь на карте - самое отдаленное территории от моря.



3.

№	Объединяющий признак	Белая ворона	Объяснение	Продолжение логического ряда
1	Добоча палеонных ископаемых	Валочурд		
2	Станицы или центры	Нахьеник	?	Грозный
3	Большая грузопе-инность транспорта	Саратов.		Санкт - Петербург
4	Расположены на юге страны	Республика Карелия	Расположена на севере страны	Республика Тыва
5	Курорты	Зиша	Транспортный узел	Сочи

10

БЛАНК ОТВЕТОВ

ШИФР: 7-11-01

Теоретический тур

1.

1	2	3	4	5
в	г	д	а	б

5
2.

1	2	3	4	5
аравийский		Вулкана		

1
3. Амазонка 1
4. 0
5. А 1
6. А 1
7. б 0
8.

1	2	3	4
г	б	д	а

4
9. А 1
10. А 1
11. АГЕЗ 4
12. ч 1
13. 1 0
14. 3 1
15. 2 1

Итого
265

Жюри: Тришкевич С.В.
Мамонтова М.А.

Практический тур

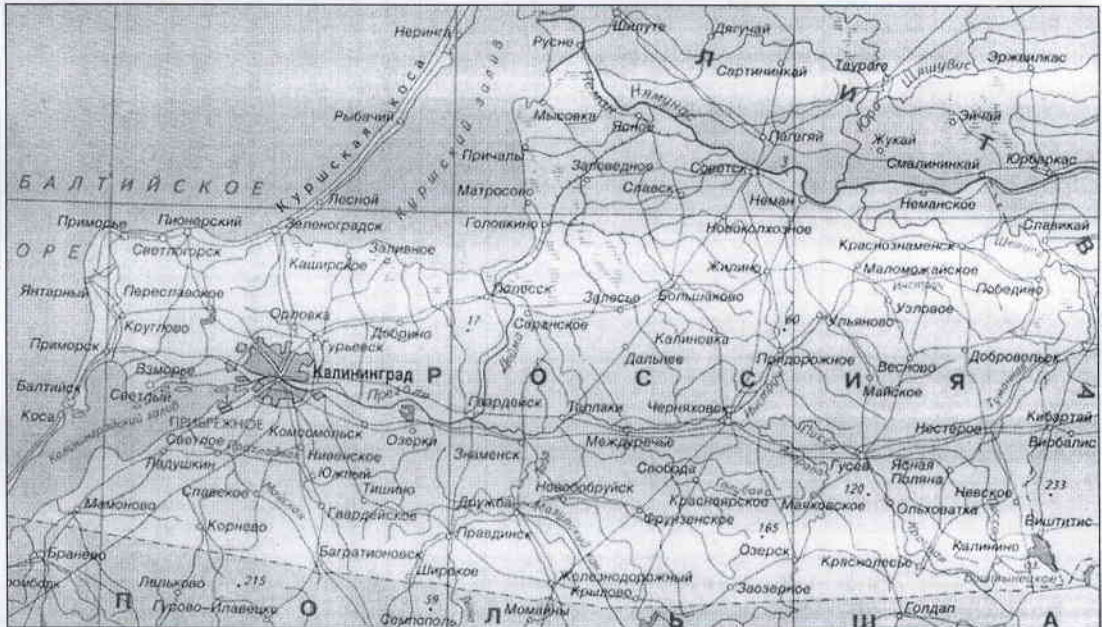
1. Ошибка в логическом ряду	Веницы
2. Обоснование исключения	Он единственный из списка, кто большую часть жизни проводит на дереве

4

0

2.

Баллы: итого 7 б.



3.

№	Объединяющий признак	Белая ворона	Объяснение	Продолжение логического ряда
1				
2				
3				
4				
5				

0